





NOMBRE _____

INSTRUMENTO _____


1. Escribe las tonalidades Mayores de las siguientes armaduras.



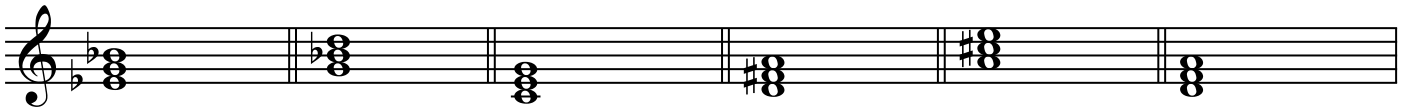
2. Escribe las tonalidades menores de las siguientes armaduras.



3. Clasifica los siguientes intervallos.



4. Indica si son acordes Mayores o menores.



5. Escribe la siguiente melodía en 3/8,

